

3. ETKİNLİK




Yarışı Kim Kazanır?

Aynı anda, aynı hızla harekete başlayan oyuncak arabalardan hangisi, bitiş noktasına önce gelir? Yarışın sonucuna göre madalya dağıtımı yapalım. Madalyaların içine aracın numarasını yazalım.

Neden böyle bir sıralama yaptığımızı kısaca açıklayalım.

.....




.....



4. ETKİNLİK

Hareket Türlerini Söyleyelim

Resimlerdeki hareket türlerini aşağıdaki tabloya çarpı işareti (x) koyarak işaretleyelim



HAREKET TÜRLERİ	1	2	3	4	5	6
DÖNME						
SALLANMA						